

プリント⑥ ～ふたけたのたしぎん～

ひ げ	月	日	な ま え
--------	---	---	-------------

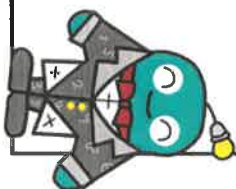
①ペアのすうじをおさらいしてみよう！

あわせて10になる ペアをかんがえてみよう！

(1) 6のペアは です。


(2) 2のペアは です。

(3) 8のペアは です。



②つぎの もんだいを といてみよう！

りんごが5こ、みかんが7こ あります。
あわせていくつでしょう？



まず、5のペアは... ² 余りは こ

10+2をすればいいので、こたえは こ



③つぎの もんだいを といてみよう！

(1) いぬが8びき、ねこが3びき います。
いぬとねこは あわせて なんびきですか？


まず、8のペアは...



10+1をすればいいので...

こたえは びき

(2) チューリップが7ほん、ひまわりも7ほん さいています。
あわせて なんほん さいていますか？



まず、7のペアは...

10+4をすればいいので...

こたえは ほん

